



CURSO REMEDIAL
AREA: MATEMÁTICAS. GRUPO: 101-102-103-104- 105
LOGRO: Mejorar procesos cognitivos a través de diferentes actividades de conocimientos, en los Estudiantes de bajo rendimiento académico.
FECHAS: Noviembre 16- 19 de 2021 Periodo: 4
RESPONSABLES: Sor Eugenia Pineda, Paula Andrea Rico, María Teresa Rúa, Kelly Bohorquez, Luisa Ospina.
OBSERVACIONES: Realice las actividades según las indicaciones
Estrategias
1.Taller 33.33%
2. Examen escrito 33.33 %
3. Oral(tablero) 33.33 %

MATEMATICAS

1.ESCRIBE EL NUMERO DEL MEDIO

- 36 _____ 38 77 _____ 79 47 _____ 49 31 _____ 33
- 90 _____ 92 89 _____ 91 20 _____ 22 62 _____ 64

2. COMPLETA LOS NÚMEROS DE LA FAMILIA HASTA EL 100

1	2		4	5	6		8	9	10
	12	13	14	15	16	17	18		20
21	22		24		26			29	30
	32	33		35		37	38	39	
41				45	46	47		49	50
	52	53	54		56		58		
61	62		64	65	66	67		69	70
	72	73	74			77	78	79	
81		83	84			87		89	90
91		93		95	96	97	98		



3. SOLUCIONA LOS SIGUIENTES PROBLEMAS:

-Don Hugo tiene en una caja 37 naranjas y 43 manzanas
¿Cuántas frutas tiene en la caja?

-En un almacén tienen 80 pares de zapatos y venden 26 ¿cuántos pares de zapatos falta por vender?


4. RESUELVE LAS SIGUIENTES OPERACIONES:

98 –	28+	78-	69+	84-	65+	74-
59	<u>57</u>	<u>49</u>	<u>13</u>	<u>32</u>	<u>29</u>	<u>29</u>

69+	30+	99-	47+	73-	52+	27-
21	<u>25</u>	<u>76</u>	<u>29</u>	<u>29</u>	<u>39</u>	<u>34</u>

5. REPRESENTA EN 6 ÁBACOS LOS SIGUIENTES NÚMEROS:

325 249 148 382 309 465



C	D	U
3	6	5

6. DICTADO DE NÚMEROS

7. REALIZA UN DIBUJO UTILIZANDO SOLO LAS FIGURAS GEOMETRICAS

8. COMPLETA LA GRÁFICA DE BARRAS






























Seguimos practicando

¿Cuáles son nuestros juguetes favoritos?

1. **Cuenta** los juguetes preferidos por los niños de 1er. grado y **completa** el cuadro.

www.Matematica1.com

						
						
						
Juguete						
Conteo de palotes						
En números						

2. Ahora, en la gráfica, **colorea** un cuadradito por cada juguete que contaste.

